


Sequência didática A lagartinha comilona.



Olá colegas!
Essas atividades foram elaboradas por Poliana Martins e cedidas para uso pessoal e apoio pedagógico.

Todas as atividades são protegidas pela lei dos direitos autorais, de no 9.610/98 - proibindo cópias para outros sites, blogs ou redes sociais.


Curta, aproveite e me segue lá no Instagram
https://www.instagram.com/poliana_pr/?hl=pt-br



DATA: ___ / ___ / ___

NOME: _____

SEQUÊNCIA DIDÁTICA A LAGARTINHA COMILONA.



♥ COMO É O NOME DA HISTÓRIA QUE VOCÊ OUVIU?

♥ QUANDO O OVO APARECEU, ERA DIA OU NOITE?

♥ EM QUAL DIA DA SEMANA A LAGARTINHA SAIU DO OVO?

♥ QUAL FRUTA A LAGARTINHA COMEU NA SEGUNDA?

♥ QUAL O NOME DA CASA QUE ELA CONSTRUIU?

♥ SER ESFOMEADO É O MESMO QUE?

FELIZ


COMILÃO

GORDO

DATA: ___ / ___ / ___

NOME: _____

**SEQUÊNCIA DIDÁTICA
A LAGARTINHA COMILONA.**



♥ ESTUDO DO TEXTO.

♥ O QUE SAIU DO OVO, NUMA BELA MANHÃ DE DOMINGO?

♥ APÓS SAIR DO OVO, O QUE A LAGARTINHA FEZ?

♥ APÓS ALGUM TEMPO, ELA CONSTRUIU UMA CASA APERTADA.
QUAL O NOME DESSA CASA?


♥ QUANTO TEMPO ELA FICOU LÁ?.

♥ EM QUE ELA SE TRANSFORMOU, QUANDO SAIU DELA LÁ?.

DATA: ___ / ___ / ___

NOME: _____

SEQUÊNCIA DIDÁTICA A LAGARTINHA COMILONA.



♥ QUANTAS E QUAIS FRUTAS A LAGARTINHA COMEU DURANTE A SEMANA? DESENHE-AS ABAIXO.

SEGUNDA

TERÇA

QUARTA

QUINTA

SEXTA


SÁBADO

DOMINGO

DATA: ___ / ___ / ___

NOME: _____

SEQUÊNCIA DIDÁTICA A LAGARTINHA COMILONA.



- ♥ VOCÊ LEMBRA COMO FOI O PROCESSO DE TRANSFORMAÇÃO DA LAGARTINHA? DESENHE ESSE PROCESSO.

ERA UMA UM OVO
EM CIMA DE UMA FOLHA.

VIROU UMA LAGARTINHA.


FICOU DENTRO
DE UM CASULO.

VIROU UMA BORBOLETA.

DATA: ___ / ___ / ___

NOME: _____

SEQUÊNCIA DIDÁTICA
A LAGARTINHA COMILONA.



♥ OBSERVE A PALAVRA **LAGARTA** E DEPOIS RESPONDA AS QUESTÕES.

♥ HÁ QUANTAS LETRAS?

♥ QUAL É A LETRA INICIAL?

♥ QUAL É A LETRA FINAL?


♥ QUANTAS SÍLABAS?

♥ CIRCULE AS SÍLABAS DA PALAVRA.

DATA: ___ / ___ / ___

NOME: _____

SEQUÊNCIA DIDÁTICA
A LAGARTINHA COMILONA.




- ♥ ESCREVA UMA NOVA PALAVRA, PARA CADA LETRINHA DO NOME **LAGARTA**.

L	
A	
G	
A	
R	
T	
A	







DATA: ___ / ___ / ___

NOME: _____

SEQUÊNCIA DIDÁTICA A LAGARTINHA COMILONA.




♥ QUANTAS LAGARTINHAS HÁ EM CADA CONJUNTO?.











DATA: ___ / ___ / ___

NOME: _____

SEQUÊNCIA DIDÁTICA A LAGARTINHA COMILONA.




♥ LIGUE OS CONJUNTOS COM QUANTIDADES IGUAIS.




DATA: ___ / ___ / ___

NOME: _____


SEQUÊNCIA DIDÁTICA A LAGARTINHA COMILONA.



♥ CIRCULE A **MAIOR** LAGARTINHA.



♥ CIRCULE A LAGARTINHA QUE ESTÁ **NO MEIO**.




♥ CIRCULE A LAGARTINHA QUE ESTÁ NA **DIREÇÃO CONTRÁRIO**.



DATA: ___ / ___ / ___

NOME: _____

SEQUÊNCIA DIDÁTICA A LAGARTINHA COMILONA.



♥ CALCULE.

$$\text{Caterpillar} + \text{Caterpillar} = \bigcirc$$

$$\text{Caterpillar} + \text{Caterpillar} = \bigcirc$$

$$\text{Caterpillar} + \text{Caterpillar} = \bigcirc$$

$$\text{Caterpillar} + \text{Caterpillar} = \bigcirc$$

$$\text{Caterpillar} + \text{Caterpillar} = \bigcirc$$


$$\text{Caterpillar} + \text{Caterpillar} = \bigcirc$$

$$\text{Caterpillar} + \text{Caterpillar} = \bigcirc$$

DATA: ___ / ___ / ___

NOME: _____

SEQUÊNCIA DIDÁTICA A LAGARTINHA COMILONA.



♥ RESOLVA AS SITUAÇÕES PROBLEMAS.

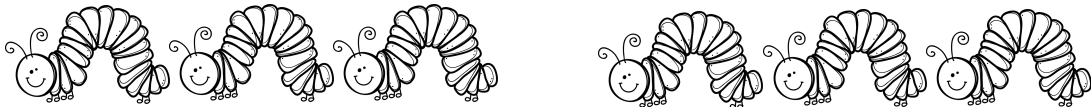
- PINTE 6 LAGARTINHAS E RISQUE 2. QUANTAS RESTARAM?



$$\square - \square = \square$$

RESTARAM _____ LARGARTINHAS.

- TINHAM 3 LAGARTINHAS E CHEGARAM MAIS 3?



$$\square + \square = \square$$

FICARAM _____ LARGARTINHAS.

- PINTE 8 BORBOLETAS E RISQUE 1. QUANTAS RESTARAM?



$$\square - \square = \square$$

RESTARAM _____ BORBOLETAS.